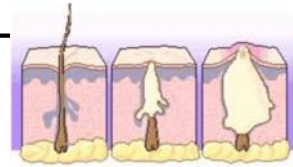
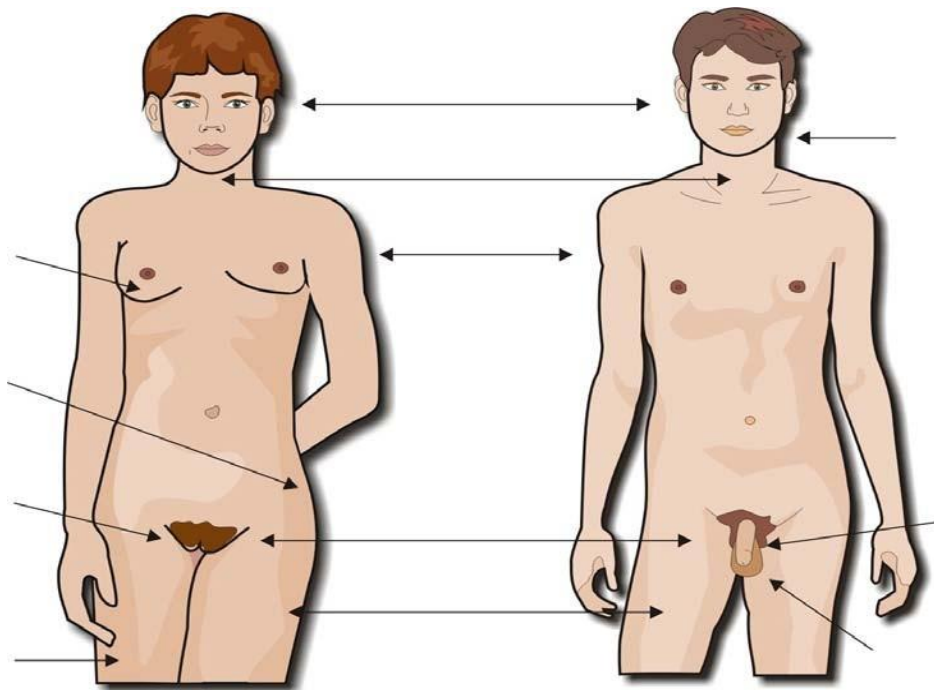


Clei 4 CAMBIOS EN MI CUERPO



2- Vais a trabajar según lo dialogado en las clases. Tenéis que señalar en la imagen los cambios que se producen en nuestro cuerpo. No debéis mirar la imagen anterior.

Al terminar diréis en voz alta los cambios que se producen en las chicas, los cambios en los chicos y los cambios en los chicos y las chicas.



LA REPRODUCCIÓN SEXUAL

Sabemos que las personas nos reproducimos sexualmente: tenemos una reproducción sexual.

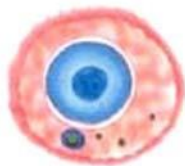
La reproducción sexual consiste en la unión de dos células llamadas *células sexuales* o *gametos*.

Uno de los gametos es del hombre y el otro de la mujer.

De la unión del gameto de la mujer, *el óvulo*, y del gameto del hombre, *el espermatozoide*, se forma el nuevo ser.



óvulo



espermatozoide



1- Lee el texto en voz baja.

2- Rellena los huecos que faltan:

La reproducción de los seres humanos es una reproducción _____

Cuando se unen dos células sexuales o _____ hablamos de _____

El gameto masculino se llama _____

El _____ es el nombre del gameto femenino.

Un nuevo ser humano se formará cuando se unen un _____ y un _____



INSTITUCIÓN EDUCATIVA SANTO DOMINGO SAVIO

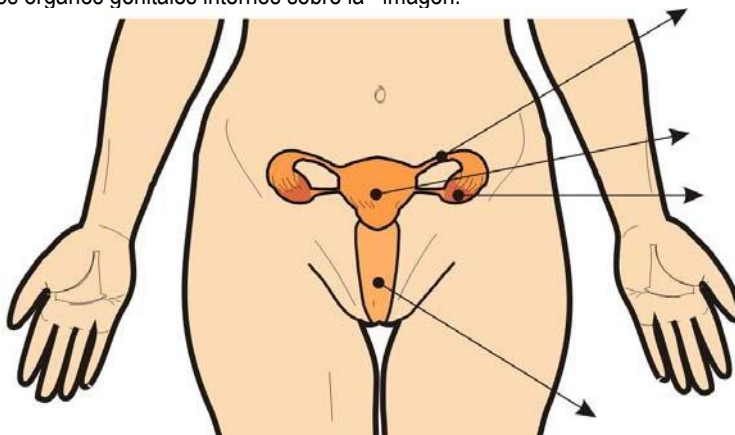
Segovia - Antioquia

NIT. 811.042.215-9 DANE 105736000055

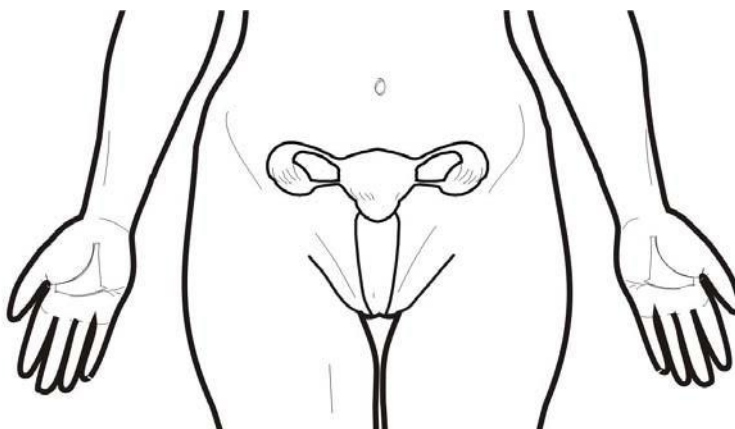
Aprobada mediante Resoluciones Departamentales N° 1999 del 14/08/2001, N° 0691 del 04/02/2003, N° 9887 del 02/12/2004, N° 037079 del 07/05/2014, N° 279217 del 09/06/2015 y N° 093796 del 21/11/2016

EL APARATO REPRODUCTOR FEMENINO

3. Señala las partes de los órganos genitales internos sobre la imagen.



4- En la segunda imagen, colorea de azul el órgano donde se desarrolla el óvulo; colorea de verde la zona que recorre el óvulo y de rojo el lugar al que va. Escribe también otra vez los nombres de esas partes.



Cuando termines envíalo al correo ropeca73@gmail.com



INSTITUCIÓN EDUCATIVA SANTO DOMINGO SAVIO

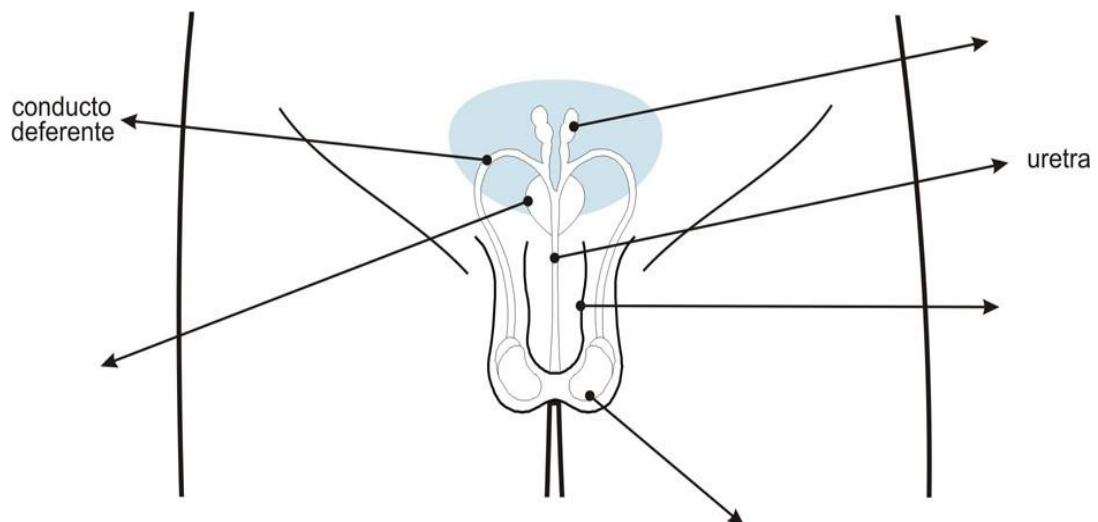
Segovia - Antioquia

NIT. 811.042.215-9 DANE 105736000055

Aprobada mediante Resoluciones Departamentales N° 1999 del 14/08/2001, N° 0691 del 04/02/2003, N° 9887 del 02/12/2004, N° 037079 del 07/05/2014, N° 279217 del 09/06/2015 y N° 093796 del 21/11/2016

EL APARATO REPRODUCTOR MASCULINO

- 2- Vas a intentar colocar los nombres que faltan sin mirar la ficha anterior.
Sabes que el semen se forma de las sustancias que se forman en tres órganos distintos. Señala con tres colores (**verde**, **rojo** y **azul**) el recorrido de esas tres sustancias.





INSTITUCIÓN EDUCATIVA SANTO DOMINGO SAVIO

Segovia - Antioquia

NIT. 811.042.215-9 DANE 105736000055

Aprobada mediante Resoluciones Departamentales N° 1999 del 14/03/2001, N° 0691 del 04/02/2003, N° 9887 del 02/12/2004, N° 037079 del 07/05/2014, N° 279217 del 09/06/2015 y N° 093796 del 21/11/2016

REPASO DE VOCABULARIO

1- Clasifica las palabras del cuadro. Señala con una cruz en la casilla correspondiente. Después lo corregiréis en voz alta.
Ej: *el ovario es un órgano sexual ... y un órgano genital ...*

	Órgano sexual femenino	Órgano sexual masculino	Órgano genital interno	Órgano genital externo
OVARIO				
TESTÍCULOS				
ÚTERO				
PENE				
VAGINA				
VULVA				
PRÓSTATA				
VESÍCULA SEMINAL				
CLÍTORIS				



“UNA INSTITUCIÓN EDUCATIVA DE TODOS Y PARA TODOS”
 Telefax: (4) 831 5463 E-mail: idesavio@gmail.com www.santodomingo.edu.co
 Dirección: Segovia – Antioquia, Calle 49 N° 46 – 130, Calle Alfonso López